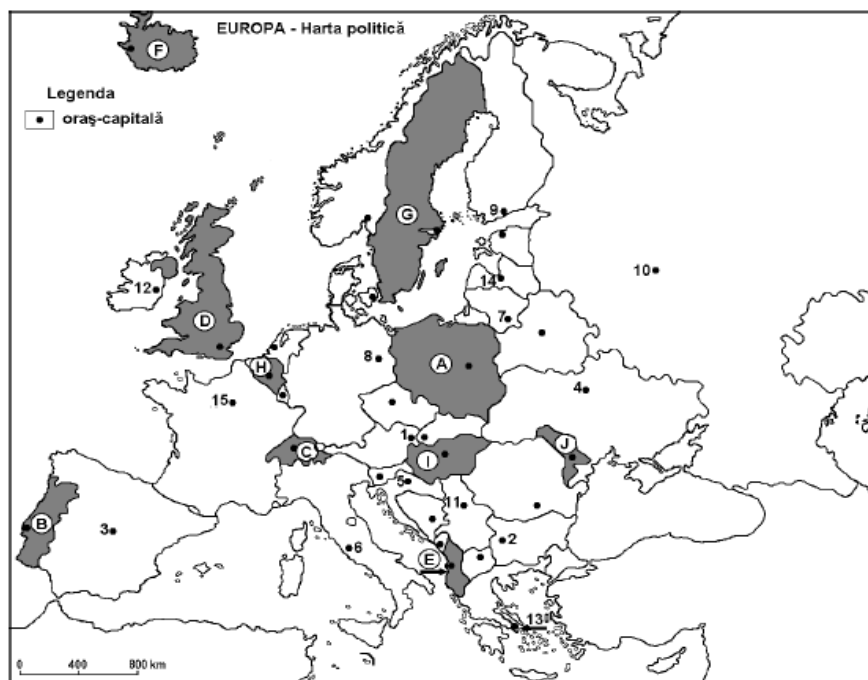


Testul 4

Subiectul I _____ (30 puncte)



Harta de mai sus se referă la subiectul I A-D. Pe hartă sunt marcate state cu litere și orașe-capitală cu numere.

A. Precizați:

1. Numele statului marcat, pe hartă, cu litera A, F;
2. Numele orașului capitală marcat, pe hartă cu cifra 1 și 2.

4 puncte

B. Scrieți, pe foaia de examen, răspunsurile corecte care completează afirmațiile de mai jos:

1. Vulcanii activi se găsesc în statul marcat, pe hartă, cu litera...
2. Bazinul carbonifer Silezia superioară este situat în statul marcat, pe hartă, cu litera ...
3. Statul din Europa centrală care nu este membru UE este marcat, pe hartă, cu litera ...

6 puncte

C. Scrieți pe foaia de examen, litera corespunzătoare răspunsului corect pentru fiecare dintre afirmațiile de mai jos:

1. Țară europeană cu ghețari continentali este marcată, pe hartă, cu litera:
a. A b. D c. H d. F

2 puncte

2. Vegetație de tip pustă este specifică statului marcat, pe hartă, cu litera:
a. J b. I c. F d. B

2 puncte

3. Spor natural pozitiv se înregistrează în statul marcat, pe hartă, cu litera:
a. I b. D c. J d. G

2 puncte

4. Capitala U.E și sediul NATO se află pe teritoriul statului marcat, pe hartă, cu litera:
a. H b. B c.D d. E

2 puncte

5. Orașul european, cu cel mai mare număr de locuitori este marcat, pe hartă, cu litera:
a. 10 b. 15 c. 2 d. J13

2 puncte

D. Precizați trei deosebiri între clima statului marcat, pe hartă cu litera B și clima statului marcat, pe harta, cu litera F .

Nota1: Deosebirile se pot referi la oricare dintre următoarele elemente de climă: temperaturi medii anuale, precipitații medii anuale, vânturi, tip de climă, etaj climatic, amplitudine termică.

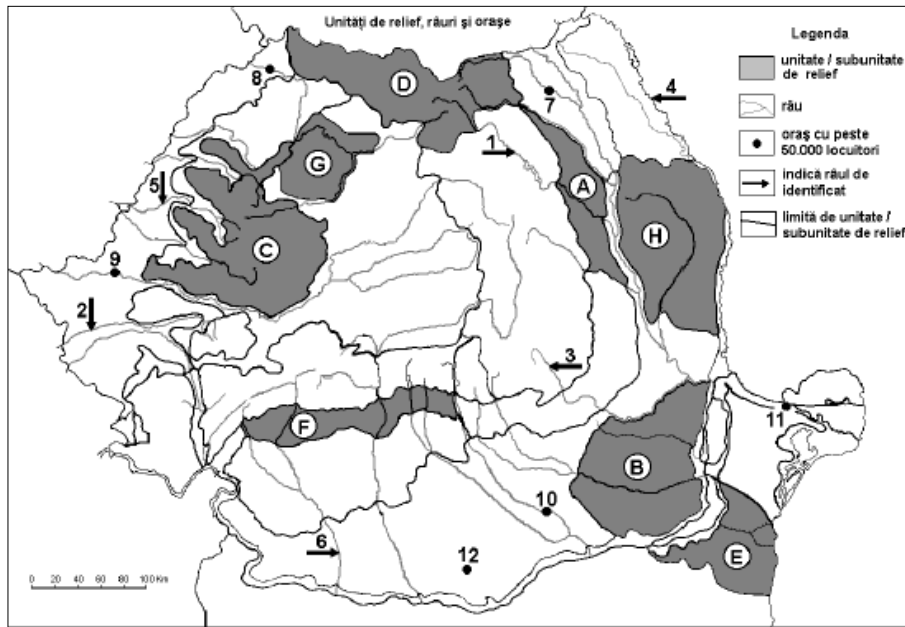
Nota 2: Punctajul complet va fi acordat numai dacă deosebirile vor fi prezentate comparativ și nu separat.

6puncte

E. Precizați două resurse naturale ale Munților Alpi, precum și ramura economică în care se utilizează acestea.

4 puncte

Subiectul al II-lea _____ (30 de puncte)



Harta de mai sus se referă la subiectul II A-E. Pe hartă sunt marcate unități de relief cu litere, râuri și orașe cu cifre de la 1 la 12.

A. Precizați:

1. Numele orașelor marcate, pe hartă, cu numerele 9 și 11.
2. Numele râurilor marcate, pe hartă, cu numerele 1 și 3.

4 puncte

B. Scrieți, pe foaia de test, răspunsurile corecte care completează afirmațiile de mai jos:

1. Orașul situat pe râul Jiu situat în unitatea marcată, pe hartă, cu litera F, se numește...
2. Este limitată, la sud, de râul Trotuș, unitatea de relief marcată, pe hartă, cu litera ...
3. Izvorăște din grupa Munților Apuseni râul marcat, pe hartă, cu cifra...

6 puncte

C. Scrieți, pe foaia de test, litera corespunzătoare răspunsului corect pentru fiecare dintre afirmațiile de mai jos:

1. Cute diapire cu sare se găsesc în unitatea de relief marcată, pe hartă, cu litera:
a. B b. E c. A d. H

2 puncte

2. Râul care străbate o regiune cu intensă subsidență este marcat, pe hartă cu litera:
a. A ; b. B ; c. C ; d. D.

2 puncte

3. Orașul marcat, pe hartă, cu cifra 7 este reședința județului:

a. Neamț b. Suceava c. Iași d. Botoșani

2 puncte

4. Etaj climatic alpin se întâlnește în unitatea de relief marcată, pe hartă, cu litera:

- a. D b. C c. E d. A

2 puncte

5. Depresiunile–golf sunt specific unității de relief marcată, pe hartă, cu litera:

- a. D b. G c. B d. C

2 puncte

D. Precizați trei deosebiri între relieful unității marcate, pe hartă, cu litera B și relieful unității de relief marcate, pe hartă, cu litera C.

Nota1: deosebirile se pot referi la oricare dintre următoarele aspecte ale reliefului: mod de formare, tipuri de roci, distribuția spațială a altitudinilor, gradul de fragmentare, orientarea culmilor și a văilor principale, tipuri genetice de relief,alte aspecte specifice ale reliefului.

Nota 2: Punctajul complet va fi acordat numai dacă deosebirile vor fi prezentate comparativ și nu separat.

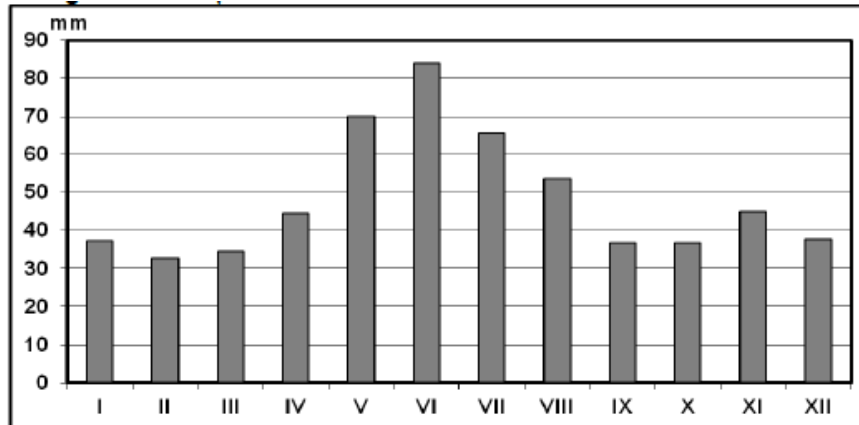
6 puncte

E. Precizați două argumente care justifică afirmația că România are premise favorabile de dezvoltare a turismului rural.

4 puncte

Subiectul al III-le a _____ (30 de puncte)

Reprezentarea grafică de mai jos se referă la subiectul III A-B și prezintă evoluția precipitațiilor medii lunare la stația meteorologică Băneasa.



A . Precizați:

1. valoarea maximă a precipitațiilor lunare , precum și luna în care se înregistrează;
2. valoarea minimă a precipitațiilor lunare, precum și luna în care se înregistrează

4 puncte

B. Precizați:

1. În câte luni debitul mediu are valori mai mari de 60 mm.
2. Modul de calcul al precipitațiilor medii anuale.
3. O cauză a cantității reduse de precipitații în timpul iernii.

6 puncte

C. Caracterizați Republica Moldova, precizând:

1. două unități de relief;
2. două râuri importante;
3. un tip de vegetație și o clasă de sol;
4. două culturi agricole importante;
5. orașul- capitală;
6. un punct de frontieră cu România.

10 puncte

D. Țărutul vestic al Peninsulei Scandinave, deși este situat între 60 și 70° latitudine nordică, are un climat ce permite dezvoltarea unei vegetații bogate.

Precizați:

1. Cauza prezenței acestui climat bland la aceste latitudini;
2. Un stat care este localizat în această regiune;
3. O activitate economic favorizată de acest climat

6 puncte

E. Precizați o cauză și o consecință a prezenței aglomerațiilor urbane milionare din Europa

4 puncte

Barem de notare si evaluare test 4

Subiectul I _____ 30 de puncte

A. Se acordă câte 2p pentru fiecare răspuns corect:

1. A-Polonia/ F- Islanda

2. 1-Viena/ 2-Sofia

total (1+2)= 4 puncte

B. Se acordă câte 2p pentru fiecare răspuns corect:

1. F 2. A 3. C

total (1+2+3) = 6 puncte

C. Se acordă câte 2p pentru fiecare răspuns corect:

1.d 2. b 3. c 4. a 5. a

total (1+2+3+4+5) = 10 puncte

D. Se acordă câte 2p pentru fiecare deosebire, corect formulată, între climatul Portugaliei și cel al R. Moldova. Pentru răspunsuri parțial corecte se acordă câte un punct.

Deosebirile se pot referi la oricare dintre următoarele aspecte ale climei: temperaturi, cantități de precipitații, vânturi, influențe climatic, tip de climă, etaje climatic.

Nota1: Punctajul complet va fi acordat numai dacă deosebirile vor fi tratate comparativ și nu separat. Pentru tratarea separată a celor două unități se acordă jumătate din punctaj

Exemplu de răspuns:

- clima Portugaliei este temperat-oceanică, iar cea a Republicii Moldova este temperat-continentală;

- cantitatea de precipitații este mai mare în Portugalia și mai mică în Republica Moldova

- amplitudini termice mici în Portugalia comparative cu cele din Republica Moldova

unde sunt mai mari.

total 6 puncte

E. Se acordă câte 2 p pentru fiecare argument corect menționat.

Pentru răspuns parțial corect se acordă punctaj intermediar -1p.

Răspuns corect: - potențial hidroenergetic foarte ridicat;

- potențialul turistic diversificat și valorificat în diferite tipuri de turism montan.

total 4 puncte

Subiectul al II-lea _____ 30 de puncte

A. Se acordă câte 2p pentru fiecare răspuns corect:

1. 9-Arad / 11- Tulcea; 2. 1-Bistrița/2- Buzău

total (1+2)= 4 puncte

B. Se acordă câte 2p pentru fiecare răspuns corect:

1. Tg. Jiu 2. A 3. 5

total (1+2+3) = 6 puncte

C. Se acordă câte 2p pentru fiecare răspuns corect:

- 1.c 2. b 3. b 4. a 5. d

total (1+2+3+4+5) = 10 puncte

D. Se acordă câte 2p pentru fiecare deosebire corect formulată între relieful Câmpiei Bărăganului și relieful Grupei Apuseni. Pentru răspunsuri parțial corecte se acordă câte un punct.

Deosebirile se pot referi la oricare dintre următoarele aspecte ale reliefului: mod de formare, tipuri de roci, altitudini, tipuri genetice de relief, alte aspecte specifice ale reliefului.

Nota1: Punctajul complet va fi acordat numai dacă deosebirile/asemănările vor fi tratate comparativ și nu separat. Pentru tratarea separată a celor două unități se acordă jumătate din punctaj

Nota 2: Se poate face referire la unitățile de relief respective fie cu literele cu care sunt marcate pe hartă, fie cu denumirile lor

Exemplu de răspuns:

- Câmpia Bărăganului s-a format prin sedimentare iar Grupa Apuseni s-au format prin încrețirea scoarței terestre.

-Câmpia Bărăganului este alcătuită din roci sedimentare pe când Grupa Apuseni sunt alcătuiți predominant din șisturi cristaline;

-Câmpia Bărăganului au altitudini mai mici , sub 200 m față de Grupa Munților Apuseni care depășesc 1500m

total 6 puncte

E. Se acordă câte 2p pentru fiecare factor expus corect. Pentru răspuns parțial corect se acordă punctaj intermediar -1p.

Răspuns corect:

-satele sunt situate în zone nepoluante pastrând tradițiile și obiceiurile strămoșești aproape intacte

- viața în mediul rural este mai aproape de natură, aspect căutat de turiștii din mediul urban sau străini.

total (1+2)= 4 puncte

Subiectul al III-lea _____ 30 de puncte

A. Se acordă 4 puncte astfel:

1. 85mm, iunie- 2p;
2. 32mm, februarie- 2p

total (1+2)= 4 puncte

B. Se acordă câte 2p pentru fiecare răspuns corect:

- 1- 3 luni
- 2- suma precipitațiilor medii lunare.
3. evaporarea redusă

total (1+2+3) = 6 puncte

C. Se acordă câte 1p pentru fiecare element:

1. Câmpia Moldovei de Nord, Podișul Moldovei Centrale- 2p;
2. Prut, Nistru – 2p;
3. temperat-continentală/ molisol– 2p;
4. tutun, viță de vie – 2p;
5. Chișinău – 1p.
6. Albița- 1p

total (1+2+3+4+5+6) = 10 puncte

D. Se acordă 6 puncte astfel:

1. Curentul Atlanticului de Nord;
2. Norvegia;
3. creșterea animalelor.

(1+2+3) = 6 puncte

total

E. Pentru fiecare cauză/consecință corect formulată se acordă cate 2 puncte. Pentru răspuns parțial corect se acordă punctaj intermediar -1p

- Răspuns corect: - oportunitatea unui loc de muncă;
- creșterea densității populației

total (1+2) = 4 puncte